
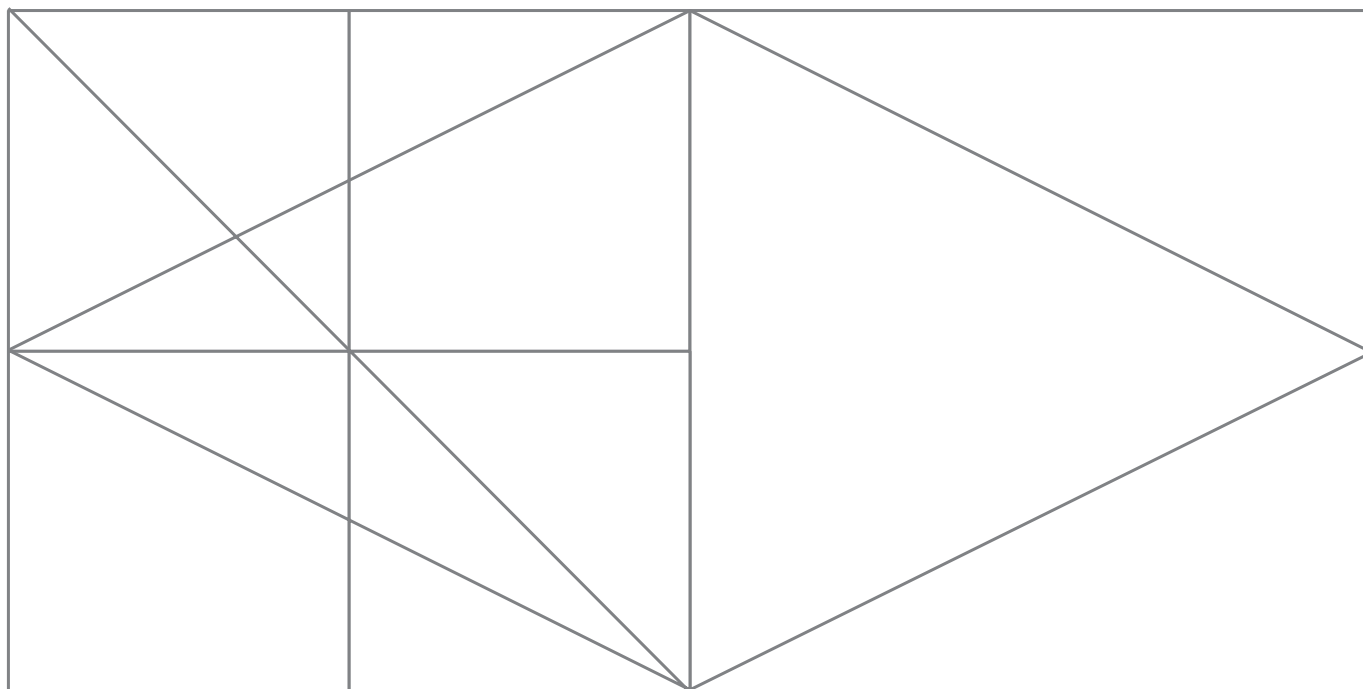


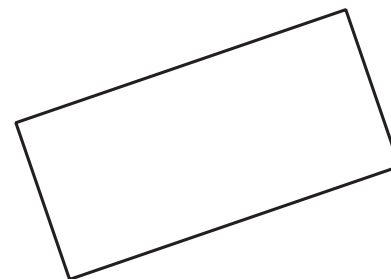
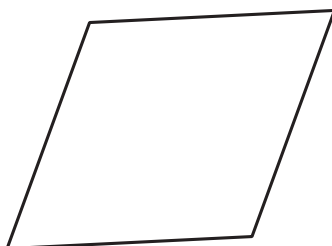

## FIGURE NASCOSTE

 Osserva l'immagine e ripassa i contorni delle seguenti figure rispettando le indicazioni di colore:

- un rettangolo con il colore rosso;
- un quadrato con il giallo;
- un triangolo con il verde;
- un rombo con il viola.



 Lucia ha disegnato un rombo. Qual è il suo disegno? Circondalo.




**COSA VERIFICARE:** identifica le principali forme geometriche.


## DISEGNIAMO!

 Disegna i poligoni seguendo le indicazioni.


- Un poligono con 4 lati, tutti della stessa lunghezza.




- Un poligono con 4 angoli tutti uguali.



- Un poligono con 3 vertici.




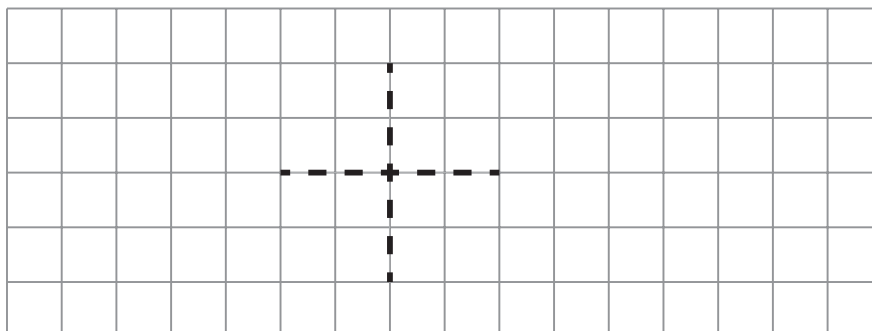
- Un poligono con 4 lati della stessa lunghezza e angoli non tutti uguali.



**COSA VERIFICARE:** disegna correttamente figure sul piano.

## DIVENTA UN...


 Alice ha disegnato le diagonali di una figura. Traccia tu i lati e rispondi alle domande.

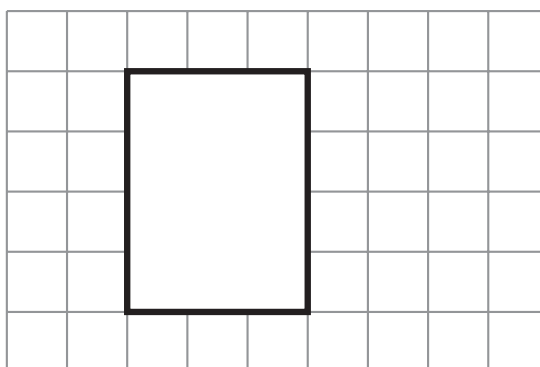


Quale poligono hai disegnato? .....

Quali caratteristiche ha? .....

.....

 Emil voleva disegnare un quadrato, ma ha realizzato la figura che vedi sotto. Correggila per farla diventare un quadrato, poi spiega sotto che cos'hai fatto e perché.



.....


.....

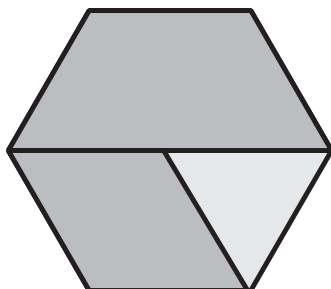
.....

.....

**COSA VERIFICARE:** identifica le principali figure geometriche e ne conosce le caratteristiche; disegna correttamente figure sul piano.

## FIGURE DA RICOPRIRE

 Sara ha ricoperto l'esagono con due piastrelle scure. Osserva la figura e rispondi alle domande.




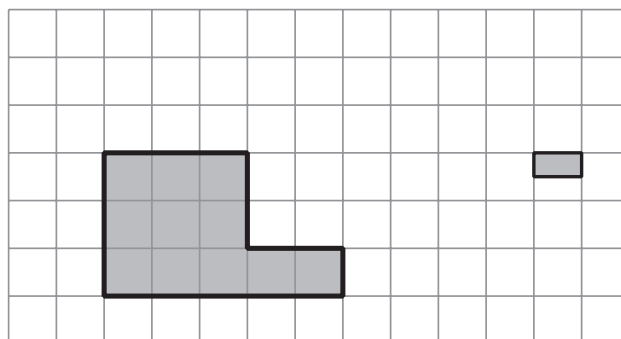
Quali sono le forme geometriche delle piastrelle utilizzate da Sara?

- Un rombo e un triangolo.
- Un trapezio e un rombo.
- Un trapezio e un triangolo.

Quale figura manca per coprire tutto l'esagono?

- Un rombo.
- Un triangolo.
- Un rettangolo.

 Jessica deve completare la figura in modo da rappresentare un rettangolo. Aiutala utilizzando la tessera a lato. Poi, rispondi alla domanda.




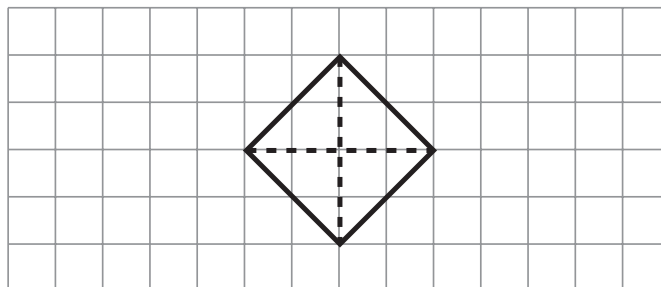
Quante tessere hai utilizzato? .....

**COSA VERIFICARE:** identifica le principali figure geometriche; utilizza figure geometriche per tassellare il piano in modo adeguato.



## COMPLEMENTI DI FIGURE

 ALICE HA DISEGNATO LA SEGUENTE FIGURA. OSSERVALA E COMPLETA LA DESCRIZIONE COLORANDO L'ALTERNATIVA CORRETTA E SCRIVENDO DI QUALE FIGURA SI TRATTA.




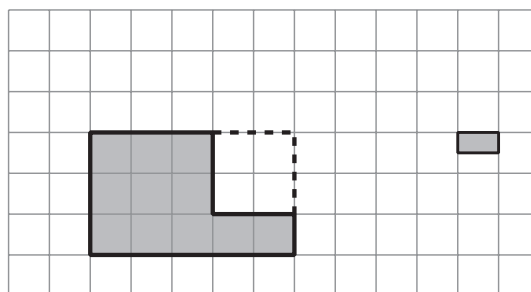
I SUOI LATI SONO  TRE  QUATTRO E SONO  DELLA STESSA  DI DIVERSA LUNGHEZZA.

I SUOI ANGOLI SONO  TRE  QUATTRO E SONO  UGUALI  DIVERSI.

LE SUE DIAGONALI SONO  DELLA STESSA  DI DIVERSA LUNGHEZZA.

QUINDI LA FIGURA È UN .....

 JESSICA DEVE COMPLETARE LA FIGURA RICOPRENDO LA PARTE BIANCA E FORMANDO UN RETTANGOLO. AIUTALA UTILIZZANDO LA TESSERA A LATO. POI, RISPONDI ALLA DOMANDA.



QUANTE TESSERE HAI UTILIZZATO? .....

**COSA VERIFICARE:** identifica le principali figure geometriche; utilizza figure geometriche per tassellare il piano in modo adeguato.