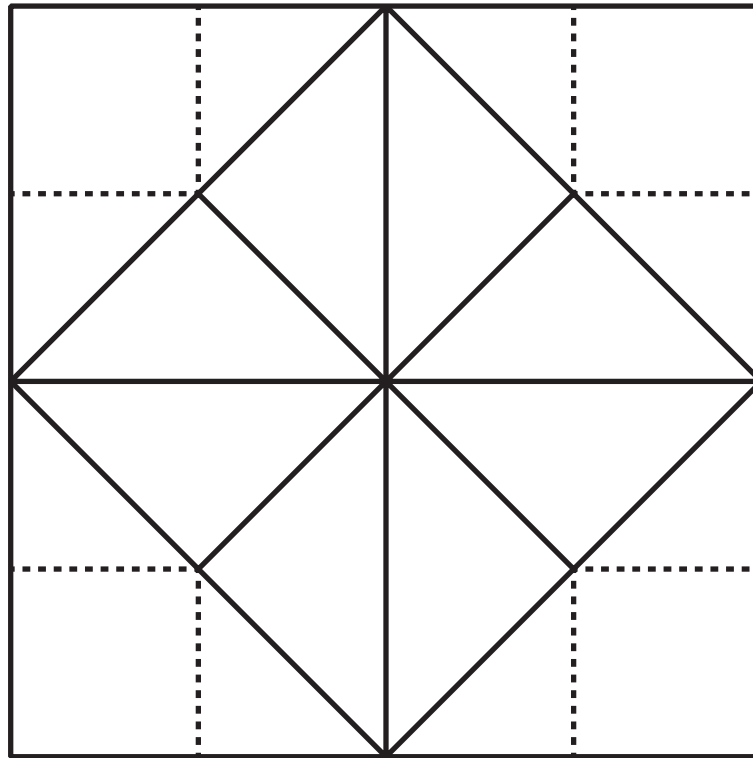


2^a

MATEMATICA

Attività n. 1

Osservate l'immagine e rispondete alle domande.



Quali figure geometriche vedete all'interno dell'immagine?

.....

Quante figure di ogni tipo sono presenti nell'immagine?

.....

2^a**MATEMATICA**


Pag. 59 - Paragrafo "Corde e vertici"

Disegna le seguenti figure in modo che ciascun vertice corrisponda a un puntino, rispettando le indicazioni di colore:

- due triangoli di dimensioni diverse con il colore viola;
- due quadrati di dimensioni diverse con il colore giallo;
- due rettangoli di dimensioni diverse con il colore blu;
- due rombi di dimensioni diverse con il colore verde.

Infine, indica i vertici con un puntino rosso.

Se riesci, disegna alcune di queste figure "ruotate".



2^a**MATEMATICA**


Attività n. 2

Osserva le seguenti piastrelle: ognuna rappresenta una forma geometrica diversa. Utilizzale per ricoprire le decorazioni in grigio nello spazio sottostante.

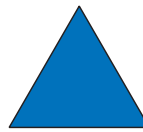
ROMBO



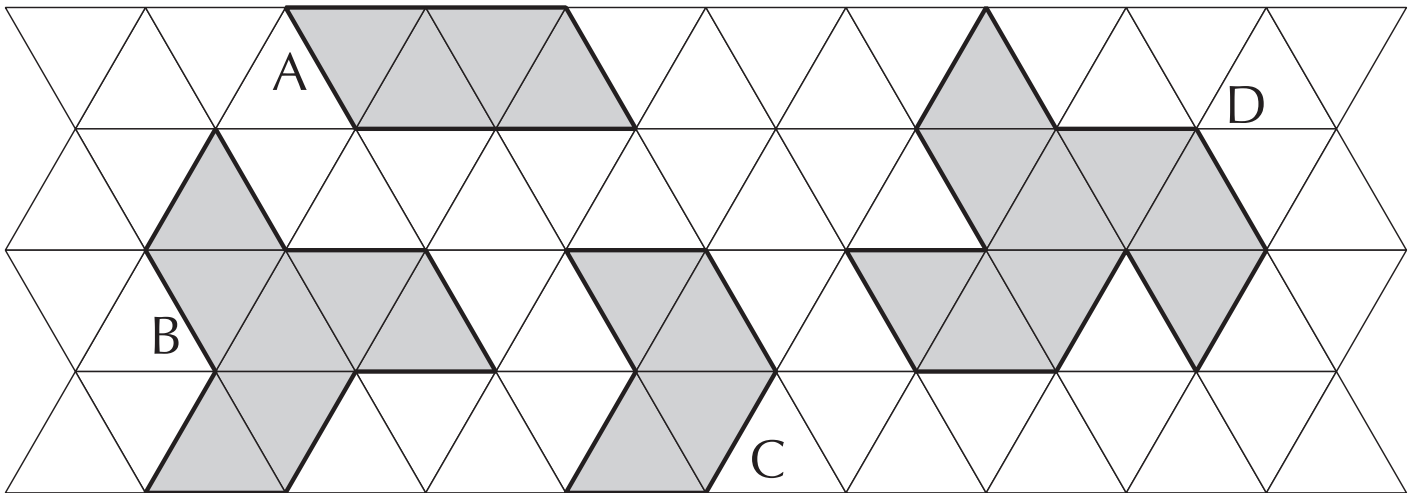
ESAGONO



TRIANGOLO



TRAPEZIO



2^a

MATEMATICA

Figura n. 2

